



4. Tekrar Testi

1. Türkiye’de 1927 yılında çalışan nüfusun yaklaşık %90’ı tarım sektöründe çalışıyor iken, günümüzde bu oran %20’ye kadar düşmüştür.

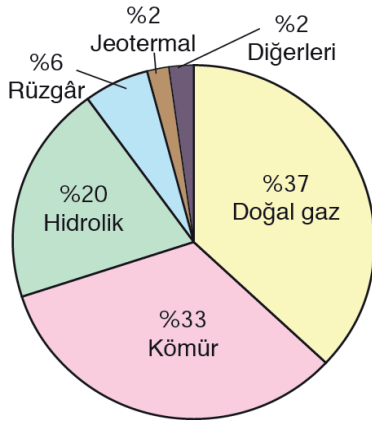
**Türkiye’deki bu durum,**

- I. tarımsal üretimin azaldığı,
- II. tarım alanlarının sanayi alanına dönüştürüldüğü,
- III. tarım dışı sektörlerde çalışanların oranının arttığı


**hangilerine örnek gösterilebilir?**

- A) Yalnız I.                      B) Yalnız II.                      C) Yalnız III.                      D) I ve II.                      E) II ve III.

2. Aşağıda Türkiye’nin 2017 yılında elektrik üretiminin kaynaklara göre dağılımı ve ülkelere göre doğal gaz ithalatı verilmiştir.



Elektrik üretiminin kaynaklara göre dağılımı



Ülkelere göre doğal gaz ithalatı

**Yalnızca tablodaki bilgilerden aşağıdakilerden hangisine ulaşılabılır?**

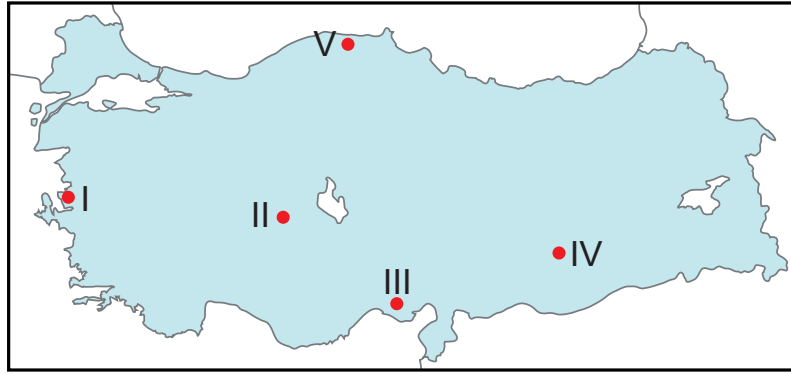
- A) Türkiye’de hidrolik enerji üretimi sürekli artmaktadır.
- B) Jeotermal kaynaklarda üretilen enerji ihraç edilmektedir.
- C) Rusya’nın doğal gaz ihracatında Türkiye ilk sırada yer alır.
- D) Türkiye doğal gaz ihtiyacının tamamını ithalat yoluyla karşılamaktadır.
- E) Türkiye elektrik ihtiyacının yarısından fazlasını fosil kaynaklardan karşılamaktadır.

## 4. Tekrar Testi

3. Aşağıdakilerden hangisi Türkiye’de uygulanan ekonomi politikalarının amaçlarından biri değildir?

- A) Doğal kaynakları en verimli şekilde kullanmak
- B) İstikrarlı kalkınmayı sağlamak
- C) Gelir dağılımını dengelemek
- D) Ucuz iş gücü sağlamak
- E) Büyüme hızlandırmak

4. Yer şekillerinin dağlık ve engebeli, eğimin fazla olduğu yerlerde tarımda makine kullanımı güçtür.



Bu durum harita üzerinde numaralandırılarak gösterilen yerlerin hangisinde daha belirgindir?

- A) I.
- B) II.
- C) III.
- D) IV.
- E) V.

5.



Tabloya göre aşağıdakilerden hangisi ham maddenin etkisiyle açıklanabilir?

- A) Fabrikalardaki makineleri çalıştırmak, bazen de yüksek ısı elde etmek için bazı fabrikalar taş kömürü kaynakları yakınına kurulmuştur.
- B) Ham maddelerin fabrikaya, üretilen sanayi ürünlerinin ise pazara ulaştırılması açısından dağıtım faaliyetleri büyük bir öneme sahiptir.
- C) Üretildikten sonra uzak mesafelere taşınınca bozulan tarım ürünlerini işleyen fabrikalar, bu ürünlerin üretildiği yerlerin yakınına kurulmaktadır.
- D) Türkiye’deki sanayi kuruluşlarının önemli bir kısmı, ısıtma maliyetini düşürmek amacıyla iklimin daha elverişli olduğu kıyı kesiminde toplanmıştır.
- E) Et ve süt ürünleri işleyen fabrikalar ile tekstil fabrikalarının önemli bir kısmı İstanbul, Ankara, İzmir, Bursa, Adana ve Konya gibi nüfusu dolayısıyla tüketimi çok olan şehirlerde kurulmuştur.

## 4. Tekrar Testi

6. I. Üretim sürecinde doğanın dengesini bozacak ve insan sağlığına zararlı olabilecek kimyasal madde kullanmadan yapılan bir tarım şeklidir.  
II. Yağışın az, sulamanın yetersiz olduğu alanlarda tarlaların bir yıl ekilip, bir yıl dinlendirilmesi şeklinde uygulanan bir tarım yöntemidir.

**Bu tarımsal faaliyetler aşağıdakilerin hangisinde doğru verilmiştir?**

I	II
A) Organik tarım	Nöbetleşe ekim
B) İntansif tarım	Nadas yöntemi
C) Seracılık	Organik tarım
D) Organik tarım	Nadas yöntemi
E) Ekstansif tarım	Nöbetleşe ekim

7.

Sanayi Tesisi	Tesisin Yer Seçiminde Etkili Olan Faktör
İstanbul'da tekstil fabrikaları	Pazar alanına yakınlık
Burdur şeker Fabrikası	Hammaddeye yakınlık
İzmir'de petrol rafinerisi	Ulaşım

**Tablodaki bilgilere göre aşağıdakilerden hangisi yanlıştır?**

- A) İzmir'de rafinerinin kurulmasında liman önemli bir faktördür.  
B) Sanayi tesisi yeri seçiminde etkili olan faktör tesis türüne göre değişir.  
C) Ekonomik değeri yüksek olan ürünleri üreten tesisler kıyılarda yoğunlaşmıştır.  
D) İstanbul'da nüfusun çok olması tekstil fabrikalarının kurulmasına sebep olmuştur.  
E) Burdur'da şekerpancarı üretiminin yapılması şeker fabrikasının kurulmasında etkili olmuştur.
8. Adana ve çevresinde aynı tarlada yıl içinde birden fazla tarım ürünü yetiştirilmektedir. Örneğin buğday hasadı yapıldıktan sonra tarlada mısır veya soya üretimi yapılmaktadır.

**Bu durum üzerinde Adana ve çevresinin;**

- I. toprak yapısı,  
II. iklim koşulları,  
III. yer şekilleri

**özelliklerinden hangileri belirleyici olmuştur?**

- A) Yalnız I.      B) Yalnız II.      C) I ve II.      D) II ve III.      E) I, II ve III.

#### 4. Tekrar Testi

9.

##### Mera Hayvancılığı

Mera ve çayırlarda yapılan yayılım hayvancılığıdır. Yağışlı yıllarda ot verimine bağlı olarak hayvansal ürünlerin üretimi artarken az yağışlı yıllarda üretim azalmaktadır.

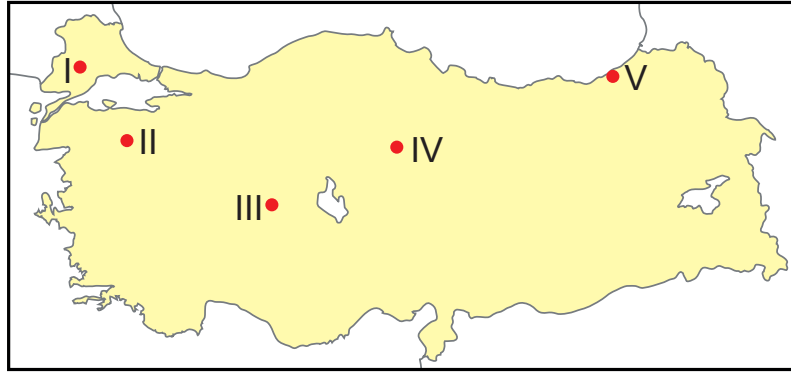
##### Besi Hayvancılığı

Genelde nüfusun kalabalık ve pazarlama imkânlarının fazla olduğu yerlerde yaygındır. Bu tür hayvancılıkta verimi artıracak yöntemler uygulanır.

**Bu bilgiler doğrultusunda aşağıdakilerden hangisi söylenemez?**

- A) Besi hayvancılığında üretim doğa koşullarından pek etkilenmez.
- B) Mera hayvancılığında üretimde yıldan yıla dalgalanmalar görülür.
- C) Küçükbaş hayvancılıkta besi, büyükbaş hayvancılıkta ise mera yöntemi uygulanır.
- D) Besi hayvancılığı modern ahırlarda yapılan ve verimi artıran yöntemlerin uygulandığı bir faaliyettir.
- E) Besi hayvancılığı ticari amaçla yapılırken, mera hayvancılığı ise daha çok ihtiyaçları karşılamaya yöneliktir.

10. Ayçiçeği, ilk yetişme döneminde su, hasat döneminde ise kuraklık isteyen bir bitkidir. İlkbaharda ekimi yapılan bu ürünün, hasadı yaz sonlarında gerçekleştirilir.



**Buna göre harita üzerinde numaralandırılarak gösterilen yerlerin hangisinde ayçiçeği yetiştirmek güçtür?**

- A) I.
- B) II.
- C) III.
- D) IV.
- E) V.

## 4. Tekrar Testi

11. I. Kümes Hayvancılığı  
II. Büyükbaş mera hayvancılığı  
III. Arıcılık

**Yukarıda verilen hayvancılık faaliyetlerinden hangilerinin doğal çevre koşullarından pek etkilenmediği söylenebilir?**

- A) Yalnız I.                      B) Yalnız II.                      C) Yalnız III.                      D) I ve II.                      E) II ve III.

12. Türkiye’de hayvancılıktan elde edilen et ve süt verimi istenilen seviyede değildir.

**Bu durumu iyileştirmek için aşağıdakilerden hangisinin yapılması yanlıştır?**

- A) Hayvan soylarının ıslah edilmesi  
B) Besi hayvancılığının teşvik edilmesi  
C) Hayvan hastalıkları ile mücadele edilmesi  
D) Mera alanlarının tarım arazilerine dönüştürülmesi  
E) Çiftçilerin ucuz ve kaliteli yem konusunda desteklenmesi

13. Aşağıdaki tabloda Türkiye’de turunçgiller üretiminde ilk sırada yer alan iller gösterilmiştir.

Ürünler	İller	Türkiye üretimindeki payı (%)
Portakal	Antalya	27,7
	Adana	23,9
Mandalina	Hatay	40,2
	Adana	29,2
Limon	Mersin	69
Greyfurt	Adana	77

**Tablodaki bilgiler doğrultusunda;**

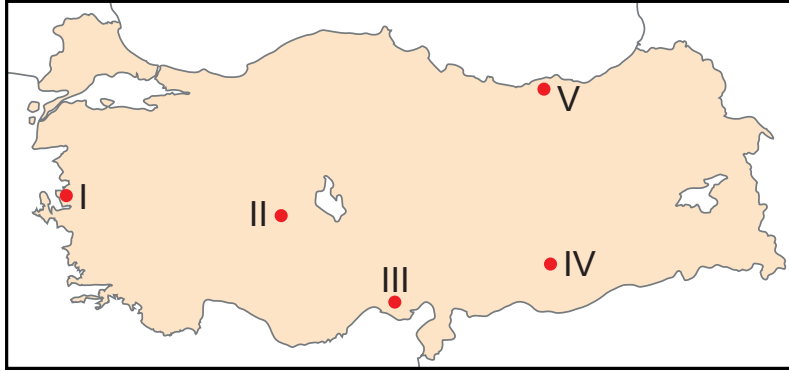
- I. Turunçgil ürünleri üretiminde Adana önde gelen illerden biridir.  
II. Portakal üretiminin yarısından fazlasını iki il karşılamaktadır.  
III. Akdeniz kıyıları dışında turunçgil üretimi yapılmamaktadır.

**yargılardan hangileri doğrudur?**

- A) Yalnız I.                      B) Yalnız II.                      C) I ve II.                      D) II ve III.                      E) I, II ve III.

## 4. Tekrar Testi

14. Yıl içerisinde güneşli gün sayısını fazla ve bulutluluk oranının az olduğu yerler güneş enerjisi için uygun yerlerdir. Aşağıdaki harita üzerinde beş farklı yer numaralandırılarak gösterilmiştir.



**Bu yerlerin iklim koşulları dikkate alındığında, hangisi güneş enerjisi için verimli değildir?**

- A) I.                      B) II.                      C) III.                      D) IV.                      E) V.
15. Bazı enerji santrallerinin üretim miktarı iklim özelliklerine bağlı olarak yıl içerisinde değişiklik gösterebilir.

**Bu enerji santrallerine örnek olarak;**

- I Termik Santrali,  
II. Hidroelektrik Santrali,  
III Jeotermal Santrali

**hangileri gösterilebilir?**

- A) Yalnız I.                      B) Yalnız II.                      C) Yalnız III.                      D) I ve II.                      E) II ve III.
16. Türkiye’de tarım yapılabilir 23,9 milyon hektarlık alan içerisinde %49 ile en büyük payı tahıllar almaktadır. Toplam tahıl alanları içerisinde ise %67’lik pay ile ilk sırada buğday yer almaktadır. Türkiye’nin buğday verimi yıllar itibariyle yükselme kaydetmiş olmasına rağmen ortalama dünya veriminin altındadır. Yüksek kaliteli tohum kullanımı, buğday verimliliğindeki en önemli faktörlerden biridir.

**Metne göre aşağıdakilerden hangisine ulaşamaz?**

- A) Türkiye’nin buğday verimi dünya ortalamasının altındadır.  
B) Buğday verimi kaliteli tohum kullanımı nedeniyle son yıllarda artmaktadır.  
C) Türkiye’nin tarım alanlarının yaklaşık yarısında tahıl tarımı yapılmaktadır.  
D) Türkiye’de son yıllarda buğday üretimindeki artış, buğday ihracatını artırmıştır.  
E) Türkiye’de tahıl üretimi yapılan alanların yarısından fazlasına buğday üretilmektedir.

#### 4. Tekrar Testi

17. Krom, demir çelik sanayisinin önemli bir ham maddesidir. Çeliğin sertleştirilmesi ve paslanmaz çelik üretiminin yanı sıra mutfak eşyaları, sokak lambaları, denizaltı, gemi, uçak sanayisinde de krom kullanılmaktadır.

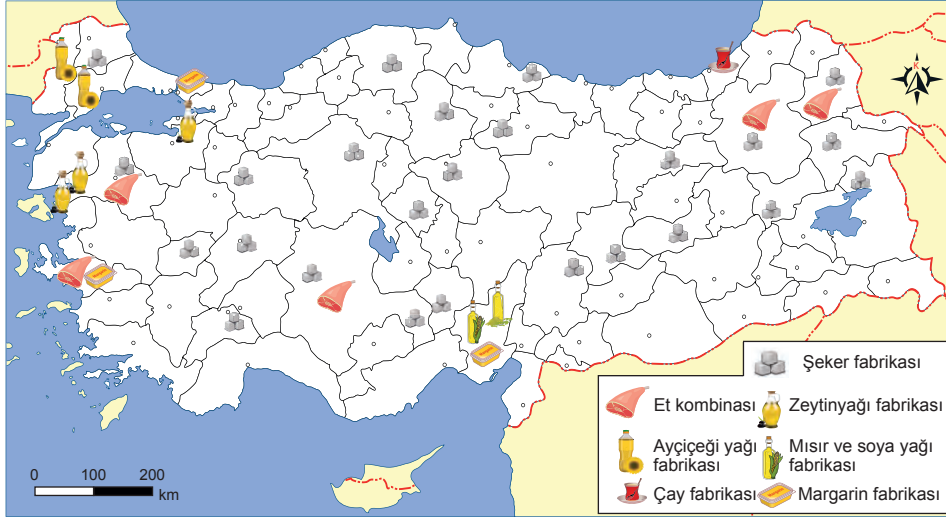
Buna göre;

- I. metalik araç gereç üretimi,
- II. ulaşım araçları üretimi,
- III. zırhlı araç yapımı

alanlarından hangilerinde kromun kullanıldığı söylenebilir?

- A) Yalnız I.                      B) Yalnız II.                      C) I ve II.                      D) II ve III.                      E) I, II ve III.

18. Aşağıdaki haritada bazı sanayi kuruluşlarının dağılışı gösterilmiştir.



Bu sanayi tesislerinin dağılışında ham maddeye yakınlık önemli bir etken olduğuna göre aşağıdakilerden hangisi söylenemez?

- A) İç kesimlerde şeker pancarı üretimi kıyı kesimlere göre daha fazladır.
- B) Trakya 'da Ayçiçek üretimi yoğundur.
- C) Mısır ve soya yağı fabrikaları Akdeniz'in doğusunda yoğunlaşmıştır.
- D) Et kombinelerinin tamamı ile şeker fabrikaları birbirine paralellik gösterir.
- E) Şeker fabrikalarının dağılışında ulaşım koşulları pek dikkate alınmamıştır.

## 4. Tekrar Testi

19. Türkiye'nin pamuk tarımı ve hayvancılık faaliyetlerinde gelişmiş olması, dokuma, giyim ve deri sanayisinde gelişmesine olanak sağlamıştır. Özellikle limanlara yakın olan şehirlerde pazarlama imkânlarının gelişmiş olması buralarda dokuma, giyim ve deri sanayisinin yoğunlaşmasına neden olmuştur.

Aşağıdaki harita Türkiye'de faaliyet gösteren dokuma, giyim ve deri sanayisinin dağılışını, tablo ise bu sanayi tesislerinin kuruluş yeri seçiminde etkili olan faktörleri göstermektedir.



İl	Sanayi Tesisi	Kuruluşunda Etkili Faktörler
Adana	Pamuklu Dokuma, Hazır Giyim.	Ham madde, Pazarlama
Kocaeli	Yünü Dokuma, Hazır Giyim, Halı ve Kilim	Pazarlama, İşgücü Potansiyeli
İzmir	Hazır Giyim, Deri Yünlü Dokuma, Pamuklu Dokuma,	Ulaşım, Pazarlama, İşgücü
İstanbul	Deri, Hazır Giyim, Pamuklu Dokuma, İpekli Dokuma	Ulaşım, Pazarlama, İşgücü

**Yukarıdaki bilgilerden yola çıkılarak dokuma, giyim ve deri sanayisiyle ilgili aşağıdakilerden hangisi söylenemez?**

- A) Sanayi tesislerinin dağılışı öncelikle ham madde üretim alanları ile paralellik göstermektedir.  
B) Hazır giyim sanayisinin büyükşehirlerde yoğunlaşmasında pazarlama ve işgücü potansiyeli etkili olmuştur.  
C) Ham maddenin ülke içinden temin edilmesi dokuma ve deri sanayisinin gelişmesini sağlamıştır.  
D) Bu sanayi tesisleri genelde tüketim potansiyeli yüksek olan yerlerde yoğunlaşmıştır.  
E) Limanlara yakın şehirlerde gelişmesi ihracata yönelik üretimin yapıldığını göstermektedir.
20. Rezervi bakımından en zengin yataklar, Sivas ve Malatya illerinde bulunmaktadır. Divriği, Hasaepli ve Hekimhan, bu illerde yataklarının bulunduğu başlıca yerlerdir. Diğer önemli yatakları Niğde, Bingöl ve Kesikköprü'dedir (Ankara). Bu maden Ereğli (Zonguldak), Karabük ve İskenderun'da işlenmektedir.

**Yukarıda söz edilen maden hangisidir?**

- A) Bakır      B) Demir      C) Krom      D) Bor      E) Mermer



Cevap anahtarına ulaşmak için karekodu okutunuz.